



Section

des

Véhicules Anciens et d'Exception



EXP

CSE DASSAULT AVIATION
SAINT-CLOUD



- ROAD BOOK -




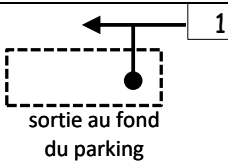
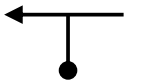
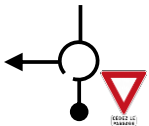
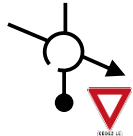
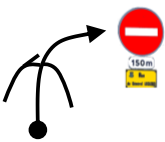
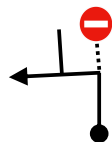

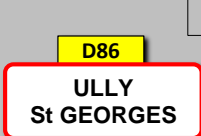

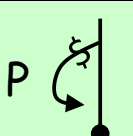
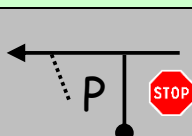
3ème ETAPE (Samedi soir)

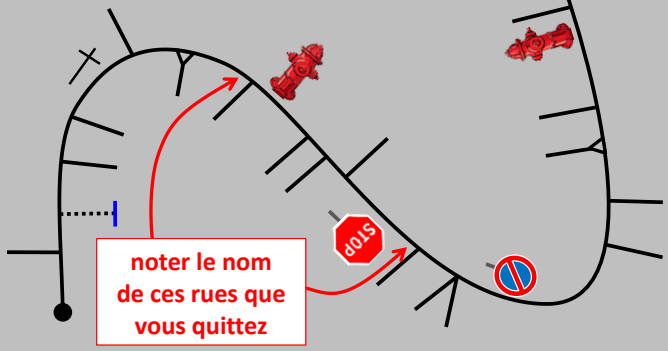
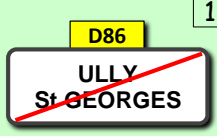

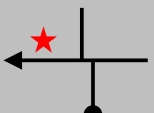
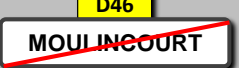



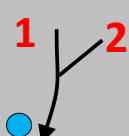
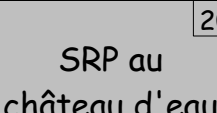
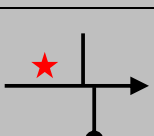
Mouy - Ableiges : **81,5 km**

Temps de réalisation conseillé : **2h30**

Moyennes : **L 42,8 km/h** **ZN 30,2 km/h**



Total	Inter	Directions	Infos
0,00	0,00		1 RAZ à la sortie du parking
0,08	0,08		2
0,10	0,02		3 D929 dir Bury
0,93	0,83		4 D137 dir Ullly St-Georges
1,23	0,30		5 ce n'est interdit que 150m plus loin
1,43	0,20		6 D86 dir Ullly St-Georges
1,57	0,14		7 D86 dir Ullly St-Georges
6,59	5,02		8 DEBUT ZN7 TPC = 0h08 (ne pas noter ce CP)
		<p>Ouvrez l'oeil !</p> <p>En 5, noter le nom de la rue empruntée</p> <p>1. et 5. sens unique 4. à la mairie, à D 2. inverse de 1 6. vers mairie 3. pas vers pharmacie 7. inverse de 4</p> 	
	0,07		10 rentrez dans le parking Av. de la Gare
			11 RAZ en sortant du parking TPC = 0h15

Total	Inter	Directions	Infos
		<p>Relever la distance KM1 entre les cases 11 et 13 (au droit des panneaux). Format x.xx km.</p>  <p>noter le nom de ces rues que vous quittez</p>	
			12 (case 13) TPC = 0h25
			13 noter KM1 au panneau
			14 C
			15 D46 MOULINCOURT
			16
			17
	0,66		18
	0,11		19 noter d'où vous arrivez (1 ou 2)
			20 SRP au château d'eau puis n'oubliez pas les fantômes...
			21 D46 MOULINCOURT

Total	Inter	Directions	Infos
		25 C	noter le nom de la rue empruntée
		23 	
	0,32	24 	
		22 pas C	
	0,98	26 	
	1,82	27 DIEUDONNE	TPC = 0h50 (ne pas noter ce CP)
Relever la distance KM2 entre les cases 27 et 30 (au droit des panneaux). Format x.xx km.			
		28 	vers TENNIS BOULES
		29 	Suivez le fil (entièrement et au plus court)
		30 	noter d'où vous arrivez (1 ou 2)

Total	Inter	Directions	Infos
		31 SRP D609 vers D1001	
	1,20	32 D609 D1001 	FIN ZN7 D1001 dir Paris TPC = 1h00
0,91	0,91	33 	SRP D1001
4,15	3,24	34 	D1001 dir Paris
4,80	0,65	35 	 carburant
5,45	0,65	36 	sortie D924 dir Chambly Belle Eglise
5,68	0,23	37 	D923 dir Bornel
6,36	0,68	38 	rue du Plantoignon (Belle Eglise)
7,58	1,22	39 	Attention vitesse limitée
7,75	0,17	40 	
7,88	0,13	41 	Route de Gandicourt
8,56	0,68	42 C4 	DEBUT ZN8 dir Gandicourt TPC = 1h10

Total	Inter	Directions	Infos
Dans les cases suivantes, surtout NE FAITES PAS ce que l'on vous demande			
		chemin de la Ferme	43 attention chaussée déformée
			44
		à D	45
			46 noter le nom de la rue que vous quittez
		vers les Ecuries	48
		pas vers les Ecuries	47 X 3

Et maintenant fini de faire l'inverse de
ce que l'on vous demande !

7,15	2,53		49 en venant de Ronquerolles TPC = 1h22 (ne pas noter ce CP)
------	------	--	--

La carto des doublés

Utilisez la carto en page 5.
Vous êtes au point A (case 49) et devez aller
au point B (case 51) en suivant la consigne
précisée.

N'oubliez pas les conseils donnés au briefing
vis à vis des CP entrées de village.

Relever la distance KM3 entre la case 49 (au
panneau) et la case 51 (à l'intersection). Format x.xx

Total	Inter	Directions	Infos
			51 pilier lignes haute tension (point B) noter KM3
	2,94		52 TPC = 1h50
			53 FIN ZN8 dir Livilliers RAZ
2,52	2,52		54
2,83	0,31		55 rue du Moulin
3,19	0,36		56 dir Epiais-Rhus
3,37	0,18		57 DEBUT ZN9 TPC = 1h55 RAZ

Retrouvez les cases ...

Relever la distance KM4 entre les cases
57 et 63 (aux panneaux). Format x.xx

Vous allez de village en village et les 5 cases
suivantes vous donnent les indications à suivre
dans chacun d'eux.

Seul bémol, ces cases ne sont pas numérotées et
c'est à vous de rétablir l'ordre de passage
grâce à l'indice simple qui vous permet de
retrouver le nom de chaque village.

?

Indice village : presque mon genou.

- SRP jusqu'à l'entrée du Château
- 240m, en biais à D (pas le choix)
- G (épingle) - 550m D

Total	Inter	Directions	Infos
		?	
Indice village : on a l'impression qu'il vous épie.			
- au té à D		- au té pas à D	
- au té à G		- vers l'église	
		?	
Indice village : on dirait un nom d'oiseau.			
1. arrivé en zone 30, à D 3. quittez zone 30 puis SRP 2. 380m, vers Bibliothèque rouge			
		?	
Indice village : le maçon doit y habiter.			
- au stop, gisement 280° - à 100m pas à D, puis SRP - au té vers fin de limite 70 - faire le tour du RP, puis prendre C			

Total	Inter	Directions	Infos
		?	
Indice village : une petite cour ?			
- rue du Val			
		63	
noter KM4 au panneau			
		64	
		65	FIN ZN9
		(D28) ↑ 	TPC = 2h25
1,15		66	
	1,15		

1,45	0,30		67	<p>FIN DE L'ETAPE ... ET DU RALLYE (Se garer dans le parking du golf et RDV au restaurant)</p> <p>CH Etape 3 (ouv 18h45) TRC = 2h30</p> <p style="color: red;">Rendre sa feuille de pointage</p>
<div style="border: 1px solid gray; border-radius: 50%; padding: 10px; display: inline-block;">Ouf, enfin !!</div>		<div style="border: 1px solid gray; border-radius: 50%; padding: 10px; display: inline-block;">Déjà ? oh non ...</div>		

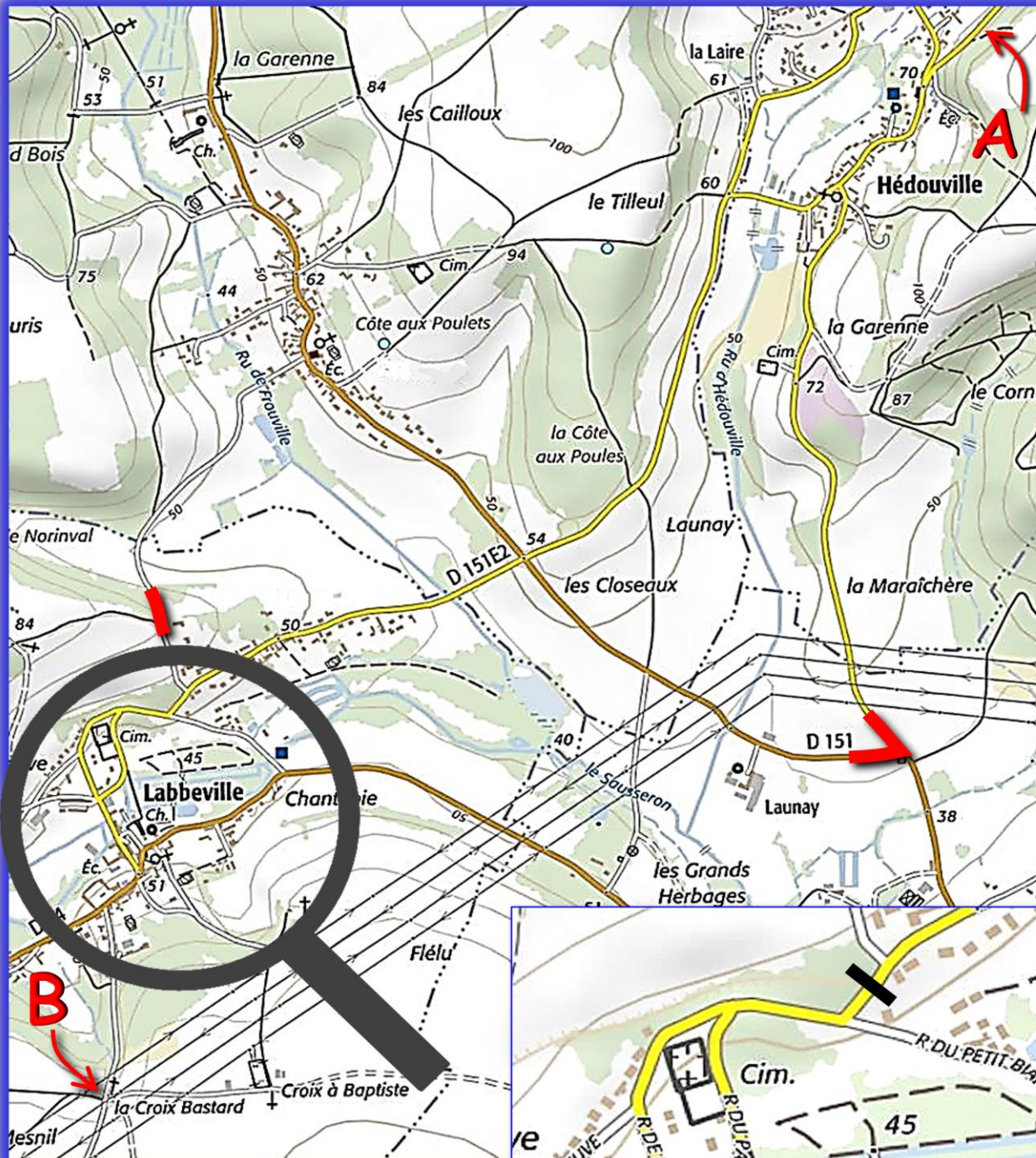
RENDEZ-VOUS AU RESTAURANT DU GOLF

LES SOLUTIONS Y SERONT PROJETEES

LES RESULTATS SERONT DONNES LORS DU DINER

ET N'OUBLIEZ PAS DE PRENDRE VOTRE CADEAU !

Carte pour la ZN8



De A vers B en parcourant les traits rouges au moins une fois de façon intégrale et en évitant les barrières noires.

Sans croiser ni contre sens et au plus court entre deux items.