



Section
des



Véhicules Anciens et d'Exception

CSE DASSAULT AVIATION
SAINT-CLOUD


EXP



- ROAD BOOK -



1ère ETAPE (Samedi matin)



Bonnières - Magny en Vexin : **57,6 km**

Temps de réalisation conseillé : **2h00**

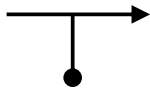



Moyennes : **L 29,7 km/h** **ZN 28,6 km/h**


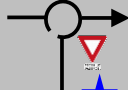
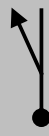



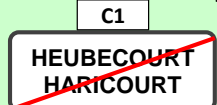
*TU SAIS COMMENT
ON RECONNAIT UN
FANTOME EN MIROIR
SUR UNE ARÊTE ?*

*BEN JUSTEMENT ...
ON NE VOIT RIEN !
AH AH AH !*

*LE PAUVRE
ENCORE UN EFFET
SECONDAIRE DU
COVID ?*

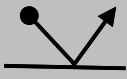

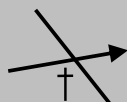

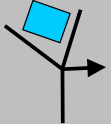
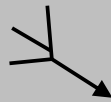







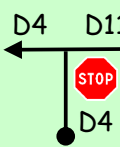

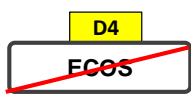
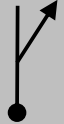


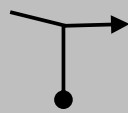
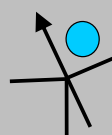
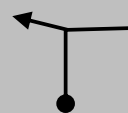
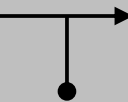
Total	Inter	Directions	Infos
0,00	0,00		1 Sortie Parking
0,10	0,10	remonter vers le pont	2
0,24	0,14	à D et traverser la Seine	3
0,80	0,56	au té, à G puis SRP	4 dir Limetz
1,29	0,49	après l'église, à D, puis SRP	5
2,30	1,01		6 DEBUT ZN1 TPC = 0h05
		- en bas - RDA X2	7
			8
		au stop, dir La Roche G	9
		RDA	10 noter le nom de la rue empruntée
			11
		D - G - D	12 (juste pour chauffer les pneus ...)

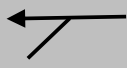






Total	Inter	Directions	Infos
		pas D5	13
			14
	1,13		15 carburant
			16 C8 TPC = 0h20
			17
		case 18	<p>Pour les CP 1,2,3, identifier s'il s'agit de l'Eglise, du Monument aux Morts, ou de la Mairie</p> <p>Noter les réponses dans l'ordre de passage sur 3 lignes distinctes de la feuille de pointage.</p> <p>NB: ces CP ne sont pas nécessairement à droite</p>
			noter le nom de cette rue
		(D7)	
		(impasse).....	noter le nom de la rue que vous quittez
			pour cette arête les routes fantômes existent
			18 FIN ZN1 TPC = 0h45


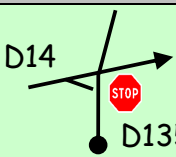




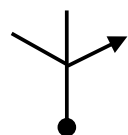
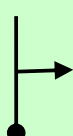

RAZ

TPC = 0h45

Total	Inter	Directions	Infos
		19 SRP	hameaux de Coupigny puis Bois d'Ecos
2,86		20 	DEBUT ZN2 
<p>Relever la distance KM1 entre les cases 20 et 30. Format x.xx km.</p>			
		21 	
		22 	
		23 	noter le n° de la maison à droite
		24 	
		25 	
		26 	
		28 pas à D	
		27 à D	
		29 	

Total	Inter	Directions	Infos
		30 	FIN ZN2 dans ECOS TPC = 1h00
0,48	0,48	31 	SRP D4 vers Magny ★ Monument aux Morts
0,90	0,42	32 	
0,95	0,05	33 	DEBUT ZN3 
<p>Relever la distance KM2 entre les cases 33 et 59. Format x.xx km.</p>			
		34 	
		38 	
		36 	
		37 à G	
		35 	
		39 pas Mairie	TPC = 1h08
		40 	noter le nom de la voie que vous quittez

Total	Inter	Directions	Infos
		41 	
		42 au RP faire 10 fois le tour. Non c'est pour rire ! en fait TD	... mais surtout souriez pour les Gendarmes
		43 pas vers tennis	
		44 	Carrefour connu ? Oui mais pas de croisement réel
		45 -TD - pas RDA	 TPC = 1h20
		46 SRP (inutile de tourner autour du calvaire)	
		47 	noter le nom de la rue sur laquelle vous êtes
		48 D119 	AVENY près du château
		50 à D	noter le nom de la rue empruntée
		49 à G	
		51 	TPC = 1h30
		52 - au té à G - SRP - au té à D	

Total	Inter	Directions	Infos
		53 - SRP - G X2 - TD	
		54 pas Louvières	TPC = 1h40
		55 	
		56 - gisement 160° - en haut	
		57 idem 55	
		58 TD	
		59 D14  D135	FIN ZN3  TPC = 1h50
3,37	3,37	60 	D983 dir MANTES
3,50	0,13	61 	dir Centre Ville Carburant possible à D 
4,08	0,58	62 	dir BEAUVAIS
4,29		63  	FIN DE L'ETAPE CH Etape 1 TPC = 2h00 (ouv CH à 12h00) Rendre sa feuille de pointage